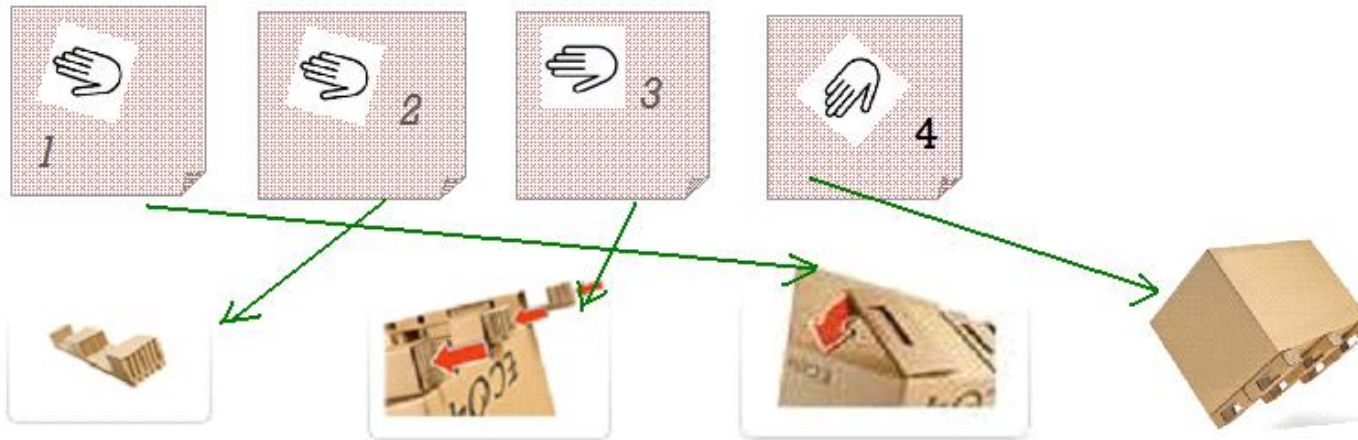


FASCIA 5-6 ANNI

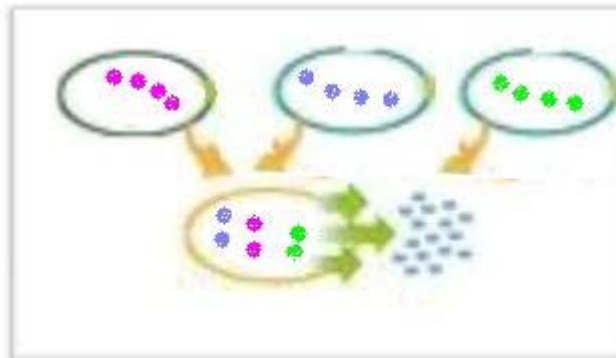
SOLUZIONE DEL TEST 1



SOLUZIONE DEL TEST 2



SOLUZIONE DEL TEST 3



FASCIA 7-8

SOLUZIONE DEL TEST 1

FRA LE IMMAGINI PROPOSTE QUELLE NUMERATE SONO QUELLE SUFFICIENTI PER IL MONTAGGIO.



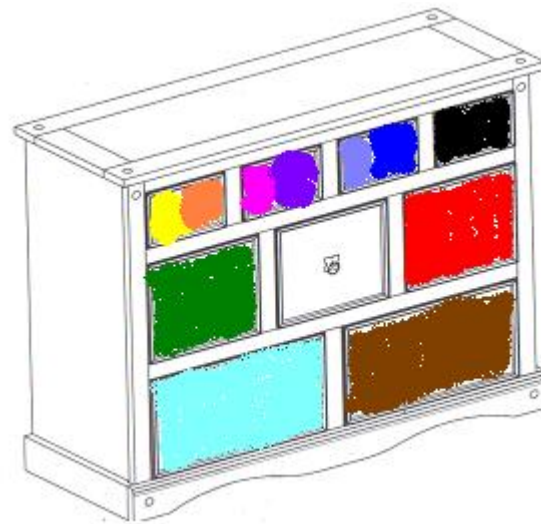
SOLUZIONE DEL TEST 2

UNA DELLE POSSIBILI SOLUZIONI È INDICATA NELLA FIGURA .

SOLUZIONE DEL TEST 3

DEVONO ESSERE SOSTITUITI DUE CONTENITORI PER RIFIUTI: ROSSO E CELESTE.

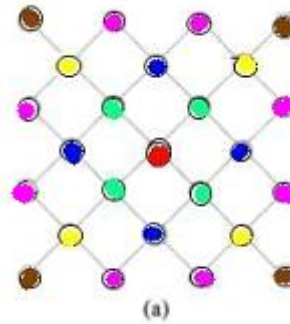
DEVONO ESSERE AGGIUNTI TRE CONTENITORI PER RIFIUTI: MARRONE, GIALLO E GRIGIO.



FASCIA 9-10 ANNI

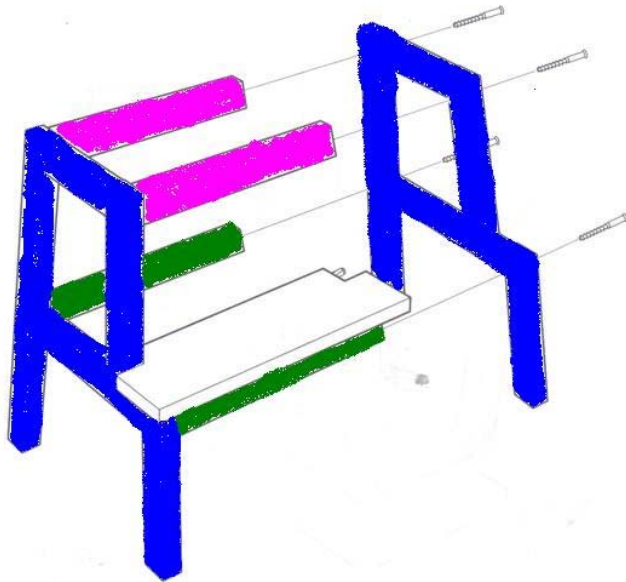
SOLUZIONE DEL TEST 1

E' possibile individuare un punto centrale sul reticolo (a). Nella figura sono indicati con colore uguale i cerchi che si trovano ad uguale distanza da quello centrale.



SOLUZIONE DEL TEST 2

Nella figura seguente, scelta fra quelle proposte, sono colorate le coppie di parti simmetriche.



SOLUZIONE DEL TEST 3

Il numero più piccolo che si può ottenere con il timbro descritto è 00000, quello più grande è 44444.